

Time: 10 Minutes	Paper Math 3	Total Marks: 10
-------------------------	---------------------	------------------------

5th Month, 1st Week, 4th Day	Syllabus: Unit 5. Exercise # 1. Q # 2.
------------------------------	---

Q.1. Read the time from the following analog clock and write in the given box. (10)

درج ذیل اینالاگ کلاک سے وقت پڑھیں اور دیے ہوئے ڈبوں میں لکھیں۔








Q.2. From given digital clock read time and write in the given boxes. (2×2=4)

ڈیجیٹل کلاک سے وقت پڑھیں اور دیے ہوئے ڈبوں میں لکھیں۔






Time: 10 Minutes	Paper Math 3	Total Marks: 10
-------------------------	---------------------	------------------------


5th Month, 1st Week, 4th Day	Syllabus: Unit 5. Exercise # 1. Q # 2.
------------------------------	---

Q.1. Read the time from the following analog clock and write in the given box. (10)

درج ذیل اینالاگ کلاک سے وقت پڑھیں اور دیے ہوئے ڈبوں میں لکھیں۔







Q.2. From given digital clock read time and write in the given boxes. (2×2=4)

ڈیجیٹل کلاک سے وقت پڑھیں اور دیے ہوئے ڈبوں میں لکھیں۔

